


ທຸກໆປາກວິທະຍາ

9 ແຜນທີ່

භූගෝල විද්‍යාව - 9 ශ්‍රේණිය

ආසියාවේ මානව හා දර්ශනාත්මක

-  ආසියාවේ පැරණි මානව ශිෂ්ටාචාර
-  යුප්‍රටීස් ටයිග්‍රිස් ගඟා නිම්න ආශ්‍රිත මෙසපොටේමියානු ශිෂ්ටාචාරය
-  ඉන්දු ගඟා නිම්නය ආශ්‍රිත මොහෙන්ජොදාරෝ සහ හරප්පා ශිෂ්ටාචාර
-  හොවංහෝ ගඟා නිම්නය ආශ්‍රිත අන්යාන් නගරය මුල් කරගත් ශිෂ්ටාචාරය

 ක්‍රමවත් නගර නිර්මාණ, ගොඩනැගිලි හා ප්‍රතිමා නිර්මාණය, කෘෂිකර්මාන්තය, කලාත්මක භාණ්ඩ නිර්මාණය මෙම ශිෂ්ටාචාරවල දියුණුව පවත්වන්නේ මනුෂ්‍ය උත්සාහය මගින් වේ.



ආසියාති මානව වර්ග



ආසියානු කලාපයේ ජීවත් වන මානව වර්ග ප්‍රධාන වශයෙන් දෙකක් දක්නට ලැබේ.



මොංගොලොයිඩ් මානව වර්ග

ජීවත් වන රටවල්



චීනය

ජපානය

මලයාසියාව

කොරියාව

සිංගප්පූරුව



කොකානොයිඩ් මානව වර්ග

ජීවත් වන රටවල්



ඉන්දියාව


ඇෆ්ගනිස්ථානය

පාකිස්ථානය





ශ්‍රී ලංකාව


අරාබි රටවල්




ආසියාවේ ජන ව්‍යාප්තිය

 ආසියාවේ ජනගහනයෙන් අඩකටත් වඩා ජීවත් වන්නේ චීනය සහ ඉන්දියාව යන රටවල් දෙකෙහි ය.





ආසියාවේ ජන ව්‍යාප්තියට බලපාන භෞතික සාධක

-  භූ විෂමතාවය
-  දේශගුණය
-  ජලවහනය
-  පස

 දකුණු ආසියාව, අග්නිදිග ආසියාව හා නැගෙනහිර ආසියාවේ ගංගා නිම්න ආශ්‍රිතව වර්ග කිලෝමීටරයට 500 ට අධික ජන සංඝනත්වයක් ඇත.

- උදා:-
-  උතුරු ඉන්දියාවේ ඉන්දු ගංගා තැන්න ආශ්‍රිත කලාපය.
 -  මියන්මාරයේ ඉරවඩි ගංගා නිම්නය ආශ්‍රිත කලාපය
 -  චීනයේ හොවූංහෝ ගංගා නිම්නය ආශ්‍රිත කලාපය

ආසියාවේ ජන හීන ප්‍රදේශ

-  මධ්‍යම ආසියාව
-  මොංගෝලියාව
-  උතුරු දිග තැනිබිම් ප්‍රදේශ
-  ගෝබි සහ ටාර් කාන්තාර ප්‍රදේශ

විලිතුව සැපයුණි.

1. ආසියාවේ පිහිටි පැරණි මානව ශිෂ්ටාචාර මොනවාද?
2. ආසියානු කලාපයේ ප්‍රධාන වශයෙන් දැකිය හැකි මානව වර්ග නම් කරන්න.
3. එම මානව වර්ග විභින්න ඊටවල් වෙත වෙනම නම් කරන්න.
4. ජන ව්‍යාප්තියේ අසමානතා කෙරෙහි බලපාන භෞතික සාධක මොනවාද?
5. ආසියාවේ ජනාධික ඊටවල් 5 ක් හා අඩු ජන සංඛ්‍යාවක් වෙසෙන ඊටවල් 5 ක් නම් කරන්න.
6. ඔබ ඉහත සඳහන් කළ ඊටවල් ලෝක ආකෘති සිතියමක සේයාකර නම් කරන්න. (5)

